

平成30年度

荒井学園

高岡向陵高等学校

新川高等学校

入学者選抜学力検査問題

検査1 社 会

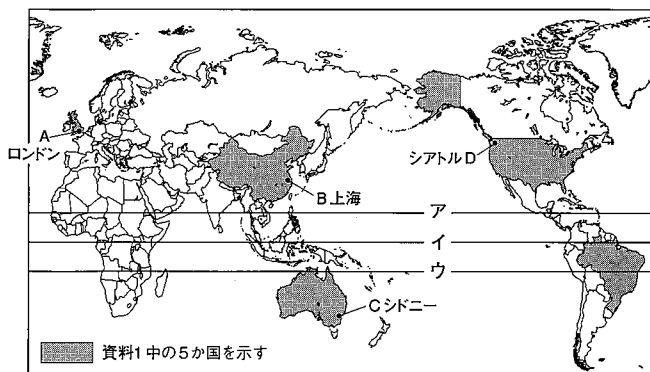
9:20 ~ 10:10

注 意

- 1 監督の先生の指示があるまで、開いてはいけません。
- 2 問題は、6ページあります。
- 3 「開始」の合図があったら、はじめなさい。
- 4 答えは、すべて解答用紙に記入しなさい。
- 5 「終了」の合図で、すぐ筆記用具をおき、解答用紙を裏返しにしなさい。
- 6 その他、監督の先生の指示に従いなさい。

1 地図や資料をみて、あとの問いに答えなさい。

地図1

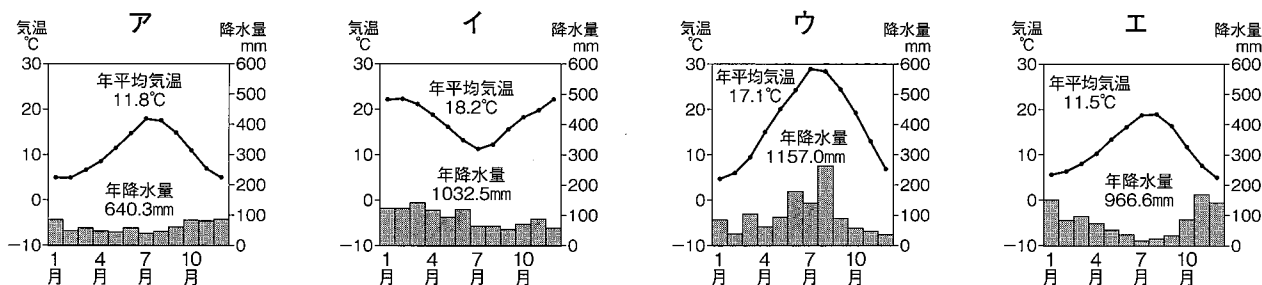


資料1 各州からの訪日者

州名	州全体の訪日者数(人)	(各州で)最も訪日者が多い国		
		国名	訪日累計数(人)	人口(万人)
アジア州	20,428,866	中国	6,373,564	137,917
ヨーロッパ州	1,421,934	イギリス	292,458	6,488
北アメリカ州	1,570,420	アメリカ合衆国	1,242,719	32,142
南アメリカ州	77,958	ブラジル	36,888	20,445
オセアニア州	505,638	オーストラリア	445,332	2,378
アフリカ州・その他	34,884			
合計	24,039,700			

(訪日者数は「日本政府観光局(JNTO)」2016年より、人口はDemographic Yearbook 2015より作成)

- (1) 赤道を表す線を地図1中のア～ウから1つ選び、記号を書きなさい。
 (2) 次のア～エは、地図1中のA～Dのいずれかの都市またはその近辺の雨温図である。B上海の雨温図を次のア～エから1つ選び、記号を書きなさい。



(「理科年表」平成29年より作成)

- (3) 資料1の説明として正しいものを次のア～エから1つ選び、記号を書きなさい。

- ア アジア州からの訪日者は、訪日者全体の約6割を占めている。
- イ 南北アメリカ州からの訪日者は、中国からの訪日者よりも多い。
- ウ イギリスからの訪日者は、資料1の5か国の中では最も少ない。
- エ 人口に対する訪日者の割合が最も高いのはオーストラリアである。

- (4) 資料2は中国、イギリス、アメリカ合衆国、ブラジル、オーストラリアと日本との貿易についてまとめたものである。資料2中の②・③に入る国の組み合わせとして正しいものを次のア～エから1つ選び、記号を書きなさい。

- ア ②アメリカ合衆国・③ブラジル
- イ ②アメリカ合衆国・③オーストラリア
- ウ ②中国・③オーストラリア
- エ ②中国・③イギリス

資料2 諸外国との貿易

国名	日本への輸出額(百億円)	おもな輸出品	日本からの輸入額(百億円)
①	1503.9	機械類、衣類、金属製品	1150.9
②	608.2	機械類、航空機類、精密機械	1118.8
③	450.4	石炭、液化天然ガス、鉄鉱石	147.1
④	95.2	鉄鉱石、肉類、コーヒー	47.3
⑤	58.2	機械類、医薬品、自動車	106.5

(世界人口年鑑2011年版、FAOSTAほかより作成)

- (5) 次の文の ・ に入る適切な語を書きなさい。

アメリカ国内では、気温、降水量、地形などの自然条件が異なるので、地域の環境に適した農産物が生産されています。これを と呼びます。また、アメリカの農場では企業的な農業が主流で、新しい農業機械の発明、農薬や化学肥料の利用、農産物を加工する技術の開発などがさかんです。最近では を利用して新品種の種子をつくるなど、生産量を増やす努力が行われています。

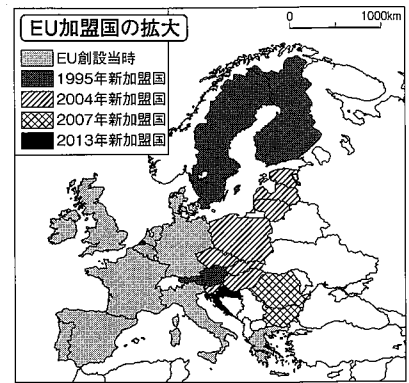
(6) 地図2はEU（ヨーロッパ連合）の加盟国が拡大したようすを示している。地図2について、以下の問いに答えなさい。

① ヨーロッパの国々が政治的・経済的に統合を進めた理由について、次の語句を使って説明しなさい。

〔 国の規模 ヨーロッパの地位 〕

② EUでは、結成後、初めて加盟国減少を迎えようとしている。国民投票でEU離脱を決めた国はどこか書きなさい。

地図2



(外務省HPより作成)

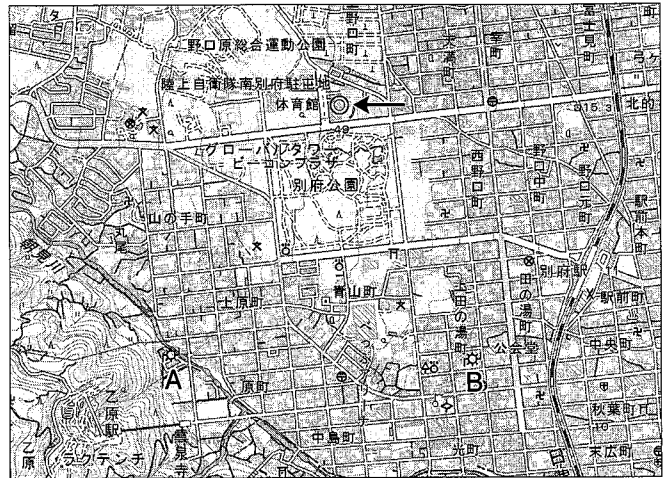
2 地図や資料をみて、あとの問いに答えなさい。

(1) 地図1について、以下の問いに答えなさい。

① ①の地図記号は何を表しているか、書きなさい。

② A発電所からB発電所まで4cmである。実際の距離は何mか、求めなさい。

地図1



(国土地理院 2017年2万5千分の1地形図「別府」)

(2) 地図2をみて、以下の問いに答えなさい。

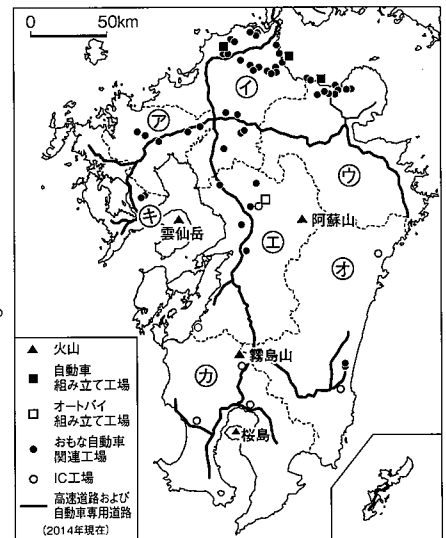
① 九州には火山が多く、これを生かした [] 発電がさかんに行われている。 [] に入る適切な語を書きなさい。

② 自動車組み立て工場や主な自動車関連工場は、九州北部の臨海部を中心に進出している。その理由を書きなさい。

(3) 資料の〔 A 〕に入る九州地方の県名を答えなさい。また、その県を地図2中の㉠～㉥から選び、記号を書きなさい。

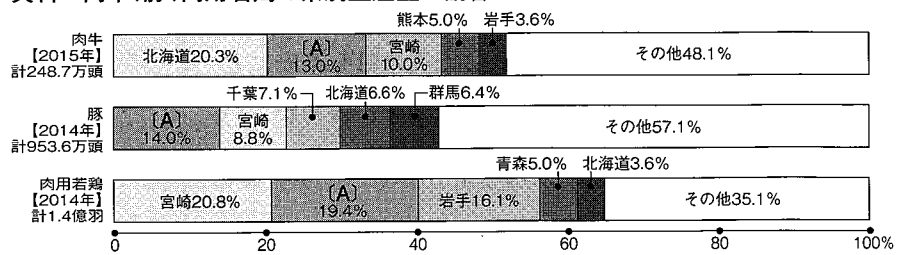
(4) 自然災害の例をあげ、その災害に備えた取り組みを書きなさい。

地図2



(「図説九州経済2014」ほかより作成)

資料 肉牛、豚、肉用若鶏の県別生産量の割合



(「日本国勢図会2016/17」より作成)

3 太郎さんは、歴史の授業で土地の利用の仕方や法令に関してまとめたカードを作った。次のカードA～Eをみて、あとの問いに答えなさい。

<p>A</p> <p>全国統一を成し遂げた <input type="text" value="X"/> は、年貢を確実に集めるために、ものさしやますを統一し、田畑の広さや収穫高を調べ、耕地ごとに農民を登録した。</p>	<p>B</p> <p>幕府や藩は、干潟や沼地を干拓したりするなど新田開発に力を注ぎ、石高を増やすことに努めた。一方、農民たちも工夫をこらして農業技術を進歩させた。</p>	<p>C</p> <p>朝廷は人口の増加に対して口分田が不足したため、<input type="text" value="Y"/> を定めて開墾を奨励し、新たな開墾地であればいつまでも自分のものにしてよいと認めた。</p>	<p>D</p> <p>村では寄合を開いてもめごとを解決したり、独自に村のおきてをつくらしたりして、農民が荘園のわくをこえて地域を運営する惣村制がとられるようになった。</p>	<p>E</p> <p>新政府は地租改正を行い、土地の面積を調査して地価を定め、所有者に地券を与えた。これによって、農民に土地の所有権・売買権が認められた。</p>
--	---	--	---	---

- に入る人物名と に入る法令名をそれぞれ書きなさい。
- カードAの頃、刀狩と検地を徹底して行うことによって、武士と百姓の身分を区別する政策が進められ、その後の身分制社会の土台をつくった。この政策を何というか。漢字4字で書きなさい。
- カードBの頃の農業技術について適切でないものを次のア～エから1つ選び、記号を書きなさい。
 ア 効率的に脱穀できる千歯こきが使われた。 イ 米と麦などの二毛作が西日本から広まった。
 ウ 干した鰯や油かすが肥料として使われた。 エ 深く耕することができる備中鍬が使われた。
- カードCの時代につくられたものを、次の写真ア～エから1つ選び、記号を書きなさい。

ア



姫路城

イ




見返り美人図

ウ



雪舟の水墨画

エ




鑑真像

- カードDの頃、各地で一揆が起こった。右の資料は1428（正長元）年に、近江国（現在の滋賀県）で起こり、近畿地方を中心に広がった一揆の時に残されたものである。この時、一揆に加わった人々は、幕府にどのようなことを要求したか。資料を参考に答えなさい。
- カードA～Eを年代の古い順に並べなさい。

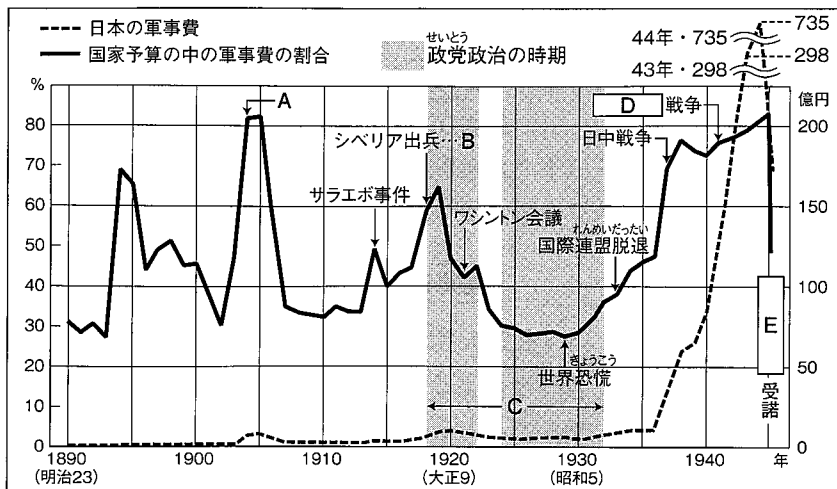
資料

正長元年ヨリ
 (ぼ(神戸)
 サキ者カシヘ四カシ
 (郷(負目)
 カウニヲキメアル
 ヘカラス
 (二四二八年以前の借金は神戸四か郷では帳消しにする)




4 資料をみて、あとの問いに答えなさい。

資料1 近代における軍事費の変化



（『昭和財政史』より作成）

資料2



(1) Aでは軍事費の割合が80%以上となっているが、この時にどのようなできごとが起こったか書きなさい。

(2) 資料2は資料1中のBの時のものである。以下の問いに答えなさい。

- ① このできごとを何というか書きなさい。
- ② このできごとが起こった原因について、次の語句を使って説明しなさい。

〔 シベリア出兵 〕

(3) Cの時期の説明として正しく述べている文を次のア～エから1つ選び、記号を書きなさい。

- ア 25歳以上のすべての男性に衆議院議員の選挙権を与える男子普通選挙が実現した。
- イ ニューヨークで株価が大暴落し世界恐慌が起こったが、日本には大きな影響がなかった。
- ウ すべての国民を戦争に向かわせ、国の予算の大部分が軍事費にあてられるようになった。
- エ 第一次世界大戦後のパリ講和会議で提唱された民族自決の考えに基づき、インドが独立した。

(4) 資料1中の 、 に入る適切な語を書きなさい。

(5) 次のア～エは資料1に続く時代の日本と世界の国々とのつながりについてまとめたものである。ア～エを年代の古い順に並べなさい。

ア



中華人民共和国との間で日中共同声明が調印され、国交が正常化された。

イ



アメリカなど48か国とサンフランシスコ平和条約を結び、日本は独立を回復した。

ウ



韓国と日韓基本条約を結び、韓国政府を朝鮮半島の唯一の政府として承認した。

エ



ソ連と日ソ共同宣言を調印した。この結果、日本の国際連合への加盟が実現した。

(6) 冷戦後の世界は国家や民族、宗教などが複雑にまざり合い、国家という枠組みを超えて世界が相互に依存を強め、一体化に向かう動きが強まった。この動きを 化という。 に入る適切な語をカタカナで書きなさい。

5 みさきさんのクラスでは、公民の授業で班別学習を行った。下の表をみて、あとの問いに答えなさい。
班別の学習内容

<p>A班 国会〔立法権〕の役割</p> <ul style="list-style-type: none"> ・内閣が定めた法律案や予算を審議し、議決する ・国会議員から内閣総理大臣を指名する ・内閣が外国と結んだ条約を承認する ・憲法改正を国民に発議する 	<p>疑問A : 国会議員を選ぶ選挙はどのようなに行われているか</p>
<p>B班 内閣〔行政権〕の役割</p> <ul style="list-style-type: none"> ・法律や予算を作り、国会に提出 ・法律の施行などに必要な政令を定める ・外交関係を処理し、外国と条約を結ぶ ・天皇の国事行為に助言と承認を与える 	<p>疑問B : 国会と内閣の関係はどのようなになっているか</p>
<p>C班 裁判所〔司法権〕の役割</p> <ul style="list-style-type: none"> ・法に基づいて紛争を解決する ・司法権の独立 ・違憲審査権の行使 	<p>疑問C : 新しい裁判制度とはどのようなものか</p>

(1) A班の学習内容について、以下の問いに答えなさい。

- ① 日本国憲法第41条に「国会は、の最高機関であって、国の唯一の立法機関である。」と記されているが、に入る適切な語を書きなさい。
- ② **疑問A** について調べたところ、衆議院議員と参議院議員で違いがあることが分かった。資料1中の X Y に入る適切な語を次のア～エから1つずつ選び、記号を書きなさい。

資料1

	衆議院	参議院
議員定数	465人	242人
任期	4年	6年 (3年ごとに半数改選)
選挙権	18歳以上	18歳以上
被選挙権	25歳以上	30歳以上
選挙区	<input type="text"/> X 289人	選挙区 146人
	<input type="text"/> Y 176人	<input type="text"/> Y 96人
解散	ある	ない

(2017年12月現在)

ア 大選挙区 イ 中選挙区 ウ 小選挙区 エ 比例代表

- ③ 両院が異なる議決をした場合、衆議院の優越が認められているがその理由について資料1を参考に書きなさい。
- (2) B班の学習内容について、以下の問いに答えなさい。

- ① 資料2中の(A)～(D)と、関連する省庁との正しい組み合わせを1つ選び、記号を書きなさい。
- ア (A) 文部科学省 (B) 厚生労働省 (C) 外務省 (D) 農林水産省
 イ (A) 法務省 (B) 厚生労働省 (C) 総務省 (D) 農林水産省
 ウ (A) 外務省 (B) 環境省 (C) 法務省 (D) 経済産業省
 エ (A) 国土交通省 (B) 経済産業省 (C) 外務省 (D) 環境省

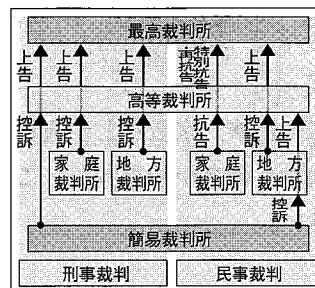
資料2



- ② **疑問B** について、内閣が国会に連帯して責任を負う制度を何というか答えなさい。

(3) C班の学習内容について、以下の問いに答えなさい。資料3 三審制の仕組み

- ① 日本の裁判制度においては、資料3のような三審制がとられているが、それはなぜか、資料3、資料4を参考に書きなさい。
- ② **疑問C** について、2009年から始まった、抽選で選ばれた20歳以上の国民が裁判官とともに刑事裁判を行う制度を何というか、書きなさい。



資料4 えん罪を報じる新聞記事2010年

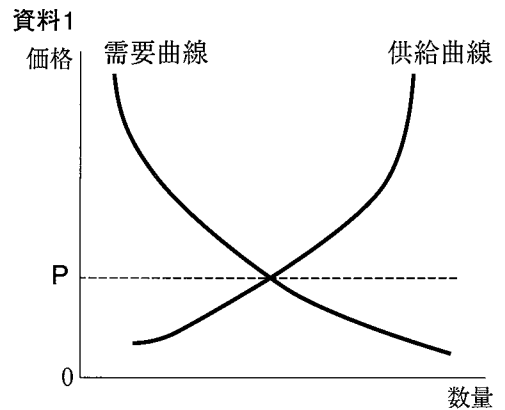


6 私たちの生活と経済について、あとの問いに答えなさい。

(1) 生徒と先生の会話文を読んで、以下の問いに答えなさい。

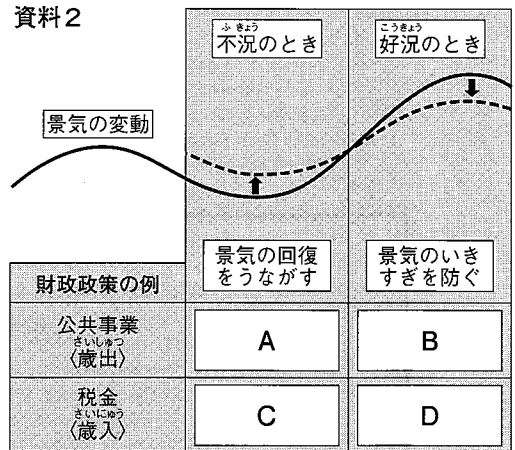
生徒 今年の夏は野菜が高いってお父さんが言っていました。
 先生 今年は雨が多くて十分に育たなかったから、市場に出回る量が X (多く, 少なく) になってしまったんだね。
 生徒 冬にみかんがたくさん市場に出回ると値段が Y (上がり, 下がり) ますね。
 先生 今年の夏野菜や冬のみかんのように市場で決められる商品の価格を a 市場価格 といいます。

- ① 文中の X と Y について、それぞれ正しい語を選んで書きなさい。
 ② 資料 1 は需要曲線、供給曲線を表したものです。下線部 a の市場価格のうち、資料 1 の P の価格を何というか答えなさい。



(2) ① 資料 2 は景気変動と財政政策の例を示したものである。A～D に入る語の組み合わせとして正しいものを次のア～エから 1 つ選び、記号を書きなさい。

- ア A 増やす B 減らす C 増やす D 減らす
 イ A 増やす B 減らす C 減らす D 増やす
 ウ A 減らす B 増やす C 減らす D 増やす
 エ A 減らす B 減らす C 増やす D 増やす



② 不況によって商品が売れなくなったときの企業の対応として適切でないものを次のア～エから 1 つ選び、記号を書きなさい。

- ア 企業は生産を縮小する
 イ 従業員の数を減らす
 ウ 企業は工場を新設する
 エ 社員へのボーナスを減らす

(3) モノやサービスを購入するときの支払い方法は現金以外に電子マネーがあります。電子マネーの特徴を答えなさい。

(4) 資料 3 は貯蓄の目的を示したグラフである。「老後の生活資金」がもっとも多いが、その理由として考えられることを書きなさい。

