

平成 29 年度

荒井学園  
高岡向陵高等学校  
新川高等学校

入学者選抜学力検査問題

検査 1 社 会

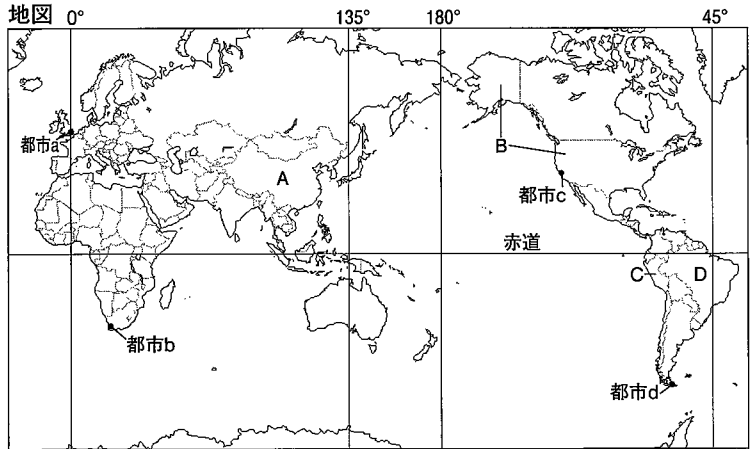
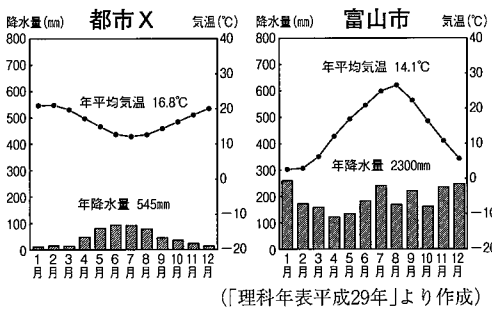
9 : 20 ~ 10 : 10

注 意

- 1 監督の先生の指示があるまで、開いてはいけません。
- 2 問題は、6 ページあります。
- 3 「開始」の合図があったら、はじめなさい。
- 4 答えは、すべて解答用紙に記入しなさい。
- 5 「終了」の合図で、すぐ筆記用具をおき、解答用紙を裏返しにしなさい。
- 6 その他、監督の先生の指示に従いなさい。

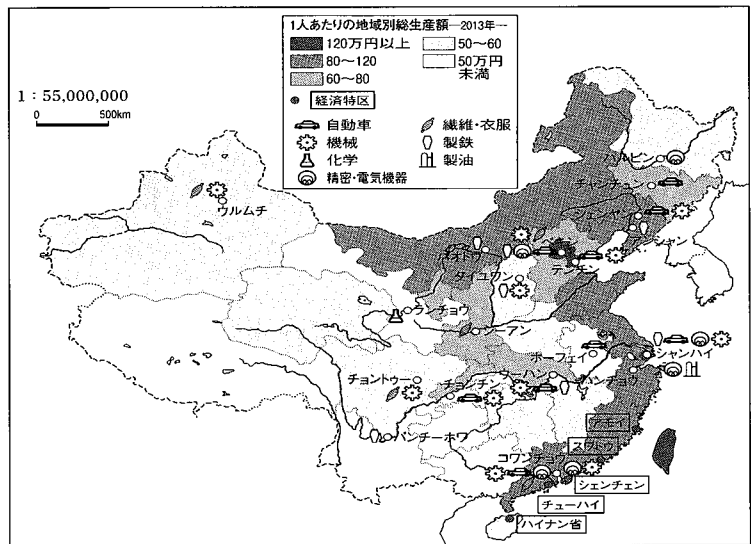
1 地図や資料をみて、あとの問いに答えなさい。

資料1 都市Xと富山市の月別の気温と降水量



- 地図中のA～D国の中で、太平洋と大西洋の両方に面している国が1か国ある。A～Dから選び、記号と国名を書きなさい。
- 資料1の都市Xは、地図中の都市a～dのいずれかである。富山市の月別気温と降水量を参考にしてa～dから1つ選び、記号を書きなさい。
- 資料2はA国の工業と地域別総生産額を示したものである。資料2から読み取ることができる内容を述べた文として適切なものを、次のア～エから1つ選び、記号を書きなさい。

資料2 A国の工業と地域別総生産額

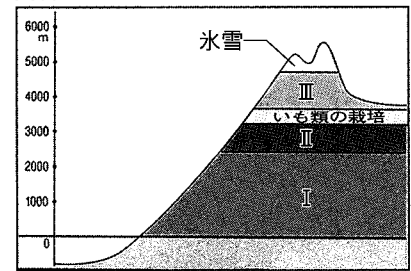


- ア 長江流域と黄河流域とを比較すると、黄河流域の方がより工業化が進んでいる。  
 イ 機械や自動車の生産は、海岸線からおよそ100km範囲内のみで行われている。  
 ウ 1人あたりの地域別総生産額は内陸部より沿岸部の方が多く地域による差が大きい。  
 エ 内陸部のウルムチ周辺では、繊維・衣服に加えて、製油もさかんととなっている。

(「A国統計年鑑2014」より作成)


- 資料3はアンデス山脈（C国中部）の標高と土地利用を示したものである。Ⅰ～Ⅲの土地利用の組み合わせとして正しいものを次のア～ウから1つ選び、記号を書きなさい。  
 ア Ⅰ－アルパカ・リヤマの飼育 Ⅱ－熱帯作物の栽培  
 Ⅲ－とうもろこしの栽培  
 イ Ⅰ－熱帯作物の栽培 Ⅱ－アルパカ・リヤマの飼育  
 Ⅲ－とうもろこしの栽培  
 ウ Ⅰ－熱帯作物の栽培 Ⅱ－とうもろこしの栽培  
 Ⅲ－アルパカ・リヤマの飼育

資料3 アンデス山脈の標高と土地利用



- D国について、以下の問いに答えなさい。  
 ① 日本が2017年2月2日午前10時だとすると、D国の現地時刻は2月何日の何時になるか。地図を参考にして書きなさい。なお、日本の標準時子午線は東経135度、D国の標準時子午線は西経45度とし、サマータイム制度は考えないものとする。  
 ② D国では二酸化炭素の排出量を抑える取り組みとして、サトウキビなどの植物原料からつくられたアルコール燃料で走る自動車が普及している。この燃料を何というか答えなさい。  
 ③ 資料4は、D国の輸出品の変化について示している。1960年と2014年のグラフを比較して、次の二つの視点から輸出品の変化について述べなさい。

資料4 D国の輸出品の変化



(「世界国勢図会2016/17」などより作成)

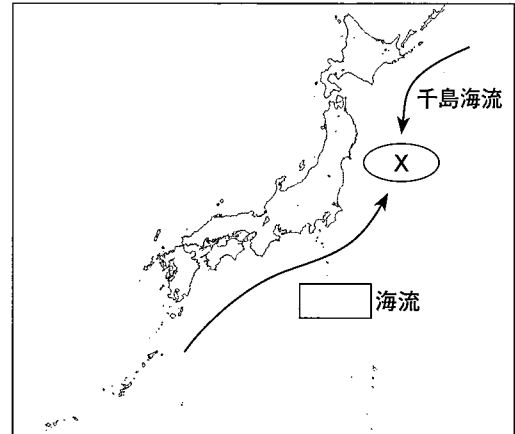
[ 品目の変化 輸出総額の変化 ]

2 地図や資料をみて、あとの問いに答えなさい。

(1) 地図について、以下の問いに答えなさい。

- ① 地図中の  に入る適切な語句を書きなさい。
- ② 海流がぶつかり合う X ではどのような特徴がみられるか、次のア～エから1つ選び、記号を書きなさい。  
 ア 原油や天然ガスなどの地下資源が豊富である。  
 イ 栄養分が少なくプランクトンがあまりいない。  
 ウ きれいな海水によりサンゴ礁が発達している。  
 エ たくさんの魚が集まる豊かな漁場となっている。

地図



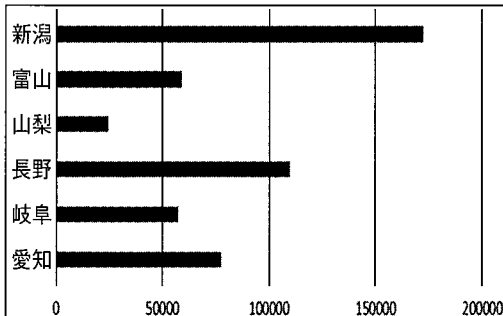
(2) 文中の  A  ~  C  に入る語句の組み合わせとして正しいものを次のア～エから1つ選び、記号を書きなさい。

長野県の諏訪盆地では、周辺地域で養蚕がさかんで  A  が発達した。その後、第二次世界大戦がはじまると、空襲の被害をさけるために、大都市から機械工場が移ってきた。戦後はそれらの技術を生かし、時計やカメラをつくる  B  工業が発達した。1980年代には高速道路が整備されたため、電子部品などを製造する  C  工業の工場が進出し、さかんになった。

- ア A 製糸業 B 精密機械 C 電気機械
- イ A 食品工業 B 電気機械 C 精密機械
- ウ A 製糸業 B 電気機械 C 精密機械
- エ A 食品工業 B 精密機械 C 電気機械


(3) 資料1・資料2は、中部地方の6県の耕地面積と農業産出額を示したものである。二つの資料から読み取ることができる内容を述べた文として適切なものを、次のア～エから1つ選び、記号を書きなさい。

資料1 耕地面積 (2014年) (単位 ha)



(「データでみる県勢2016」より作成)

資料2 農業産出額 (2013年)



(「データでみる県勢2016」より作成)

- ア 耕地面積が一番大きい新潟県では米作りがさかんで、農業産出額の総額も一番多くなっている。
- イ 山梨県では果実生産が大変さかんであり、その産出額は富山県の米の生産額を上回っている。
- ウ 長野県は隣県の岐阜県と比較すると、耕地面積と農業産出額の両方でおよそ3倍となっている。
- エ 愛知県では野菜や花の生産がさかんで、農業産出額全体の70%以上を占めるまでとなっている。

(4) 資料3について、以下の問いに答えなさい。



- ① 中京工業地帯について解答用紙のグラフを完成させなさい。
- ② 中京工業地帯の特徴を書きなさい。

資料3 おもな工業地帯の工業出荷額と内訳 (%)

	電気機械	輸送機械	その他の機械	鉄鋼・金属	化学	繊維	食品	その他
京浜工業地帯(50兆6603億円)	11.5	14.6	10.7	12.7	27.5	0.5	11.7	10.8
中京工業地帯(55兆4302億円)	9.6	45.1	9.1	10.7	12.7	1.2	5.2	6.4
阪神工業地帯(33兆5449億円)	12.1	6.5	15.5	21.5	24.1	1.5	10.4	8.4
瀬戸内工業地帯(29兆1799億円)	6.5	15.9	8.7	18.9	31.8	2.3	7.6	8.3

(経済産業省資料より作成)

3 次の年表は、わが国の歴史を中心にまとめたものである。年表をみて、あとの問いに答えなさい。

年代	100	200	300	400	500	600	700	800	900	1000	1100	1200	1300	1400	1500	1600	1700	1800
おもなできごと		卑弥呼が をおさめる A	ヤマト王権による 統一が進む			大化の改新		平安京に都を移す	武士の登場			保元の乱	足利尊氏が征夷大 将軍となる	応仁の乱		徳川家康が幕府を 開く	新田開発が進む	
文化の動き		I		B 大陸・半島の文化が伝わる		法隆寺建立 	『万葉集』 かな文字の使用		『源氏物語』	新しい仏教が おこる	II	III		南蛮文化 	IV		蘭学がおこる 『おくの細道』	
海外との交流		卑弥呼が魏に使い を送る	倭国が朝鮮半島に 出兵する			白村江の戦い		遣唐使を廃止する		C 日宋貿易が盛ん なる			日明貿易を行う			鎖国体制が完成す る		
世界のおもな できごと		ローマ帝国がさ かえる				X						チンギス・ハン がモンゴルを統 一する			Y			アメリカの独立 革命

(1) A に入る国名を書きなさい。

(2) B大陸・半島の文化が伝わるについて、具体的にどのような文化が伝わったか。文化を伝えた人々の名称も入れて書きなさい。

(3) C日宋貿易について、以下の問いに答えなさい。

① 資料1の人物は武士として初めて政治の実権を握り、この貿易を進めた人物である。人物名を書きなさい。

② このころの説明として正しいものをア～エから1つ選び、記号を書きなさい。

ア 刀狩令が出されて、農民たちから武器や武具などが集められた。


イ 東北地方で蝦夷の反乱が起こり、都から征夷大將軍が派遣された。

ウ 墾田永年私財法が出され、有力寺院は開墾を進めて荘園とした。

エ 源頼朝が挙兵して東国の武士の支持を集め、やがて幕府を開いた。


(4) 資料2・資料3が建てられた時期をI～IVからそれぞれ選び、記号を書きなさい。

資料2



(京都府 平等院鳳凰堂)

資料3



(兵庫県 姫路城)

(5) 江戸時代の参勤交代について、資料4・資料5をみて以下の問いに答えなさい。

① 資料4は徳川家光が定めた法令である。この法令名を書きなさい。

資料4

- 一 学問と武道にひたすら精を出すようにしなさい。
- 一 大名が、自分の領地と江戸とを交代で住むように定める。毎年4月に江戸へ参勤せよ。
- 一 幕府の許可なしに、婚姻を結んではならない。

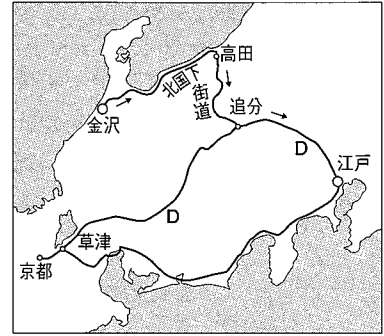
資料1



(京都府 六波羅蜜寺蔵)

② 資料5は加賀藩の参勤交代のルートを示している。江戸へ向かう参勤の場合、金沢を出発し追分までは北国下街道を通り、追分からはDの街道に入って江戸をめざした。Dの街道は幕府が管理する五街道の1つであるが、この街道の名称をア～エから選び、記号を書きなさい。

資料5



ア 東海道    イ 中山道    ウ 甲州道中    エ 奥州道中

(6) 世界のおもなできごととして  ・  に入るものをそれぞれア～エから選び、記号を書きなさい。

ア ムハンマドがイスラム教をおこした

イ メソポタミア文明がさかえる

ウ コロンブスがアメリカに到達した

エ イギリスで産業革命がおこる

4 明治から現在までの人々のくらしにすることがらを調べて、次のカード1～4にまとめた。これらを見て、あとの問いに答えなさい。

カード1 明治

明治維新がおこり、(a)生活様式が変化し、断髪して洋服を着たり、牛なべなどの西洋料理が流行した。また、政府は諸外国との(b)条約改正交渉にも取り組んだ。

カード2 大正

(c)重工業が急成長し、貿易額が黒字となった。この好景気のなかで、成金とよばれる金持ちが増えた。一方で物価は急上昇し、庶民の生活は苦しくなった。

カード3 昭和

ポツダム宣言を受け入れて降伏すると、アメリカ軍を中心とする連合国軍が日本を占領した。GHQは軍国主義を排除し(d)民主化を進めるため改革を指令した。

カード4 平成

パソコンの普及とともに(e)インターネットの利用が広まり、携帯電話を持つ人が増えた。また、地球温暖化などが問題となり、環境に配慮した生活が望まれている。

(1) 下線部(a)のように欧米の文化が取り入れられ、くらしや社会のようすが大きく変化したことを何というか、漢字4字で書きなさい。

(2) 下線部(b)について、幕末に結ばれた日米修好通商条約など、欧米諸国との条約は、日本にとってどのような点が不平等であったのか、次の語句を使って簡潔に説明しなさい。

[ 領事裁判権    関税自主権 ]

(3) 下線部(c)は第一次世界大戦の影響によりもたらされたものであるが、第一次世界大戦の説明として誤っているものを、次のア～エから1つ選び、記号を書きなさい。

ア オーストリア皇太子夫妻が暗殺されたサラエボ事件がきっかけで始まった。

イ 大戦中、日本は、中華民国政府に対して二十一か条の要求を認めさせた。

ウ 講和会議が開かれ、戦勝国とドイツとの間にワシントン条約が結ばれた。

エ イギリスの植民地であったインドからも、住民が兵士として戦場に動員された。

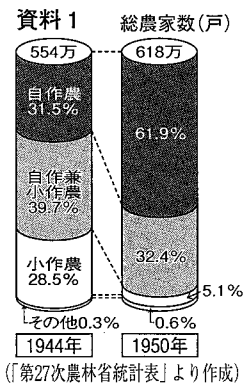
(4) 下線部(d)について、資料1は何という改革に関するものか、書きなさい。

(5) 下線部(e)について、以下の問いに答えなさい。

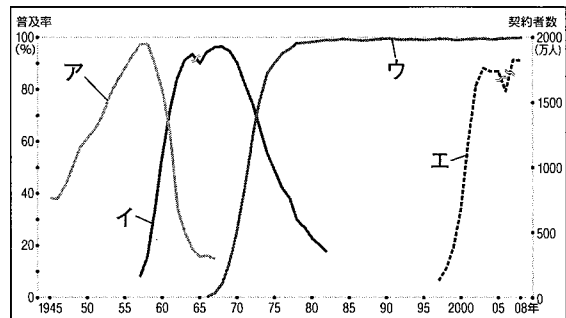
① 資料2は白黒テレビ・カラーテレビ・インターネットの普及率及びNHKラジオの契約者数を示したものである。インターネットの普及率を示したグラフをア～エから1つ選び、記号を書きなさい。

② インターネットの普及は人々のくらしをどのように変えたか、具体例を1つ書きなさい。

資料1



資料2 マスメディアの発達



(総務省資料などより作成)



6 幸平くんと直美さんは次のA～Cのテーマについて学習を行うことにした。これらのテーマについて、あとの問いに答えなさい。

テーマ

A 市場の働きと経済	B 国民の生活と政府の役割	C 銀行の役割
------------	---------------	---------

(1) Aのテーマについて、以下の問いに答えなさい。

- ① 不況のときに、政府が行う財政政策について述べた次の文中の  ,  に入る適切な語句の組み合わせを、次のア～エから1つ選び、記号を書きなさい。

政府は、不況のときに公共事業などへの歳出を  たり、  をしたりするなどして、企業や家計の経済活動を活発にするようにしている。

- ア X 増やし Y 増税                      イ X 増やし Y 減税  
 ウ X 減らし Y 増税                      エ X 減らし Y 減税

- ② 為替相場（為替レート）が、1ドル=120円から1ドル=110円になったとき、わが国の経済が受ける影響として適切なものを、次のア～エから1つ選び、記号を書きなさい。

- ア 円高になったので、輸出がしやすくなる。      イ 円高になったので、輸入がしやすくなる。  
 ウ 円安になったので、輸出がしやすくなる。      エ 円安になったので、輸入がしやすくなる。

(2) Bのテーマについて、以下の問いに答えなさい。

- ① 資料1は、日本の社会保障制度の種類と主な内容を示したものである。Zにあてはまる語句を書きなさい。

資料1

種類	主な内容
社会保険	医療保険、介護保険、年金保険、雇用保険など
公的扶助	生活保護（生活・住宅・教育・医療などの援助）
Z	高齢者福祉、児童福祉、母子福祉、障害者福祉など
公衆衛生	感染症予防、予防接種、下水道整備など

- ② 資料2は、平成6年に制定された、欠陥商品によって消費者が被害を受けた際の企業の責任について定めた法律の第1条である。この法律を何というか書きなさい。

資料2

第1条 この法律は、製造物の欠陥により人の生命、身体又は財産に係わる被害が生じた場合における製造業者等の損害賠償の責任について定めることにより、被害者の保護を図り、もって国民生活の安定向上と国民経済の健全な発展に寄与することを目的とする。

(3) Cのテーマについて、次の文と資料3をみて、以下の問いに答えなさい。

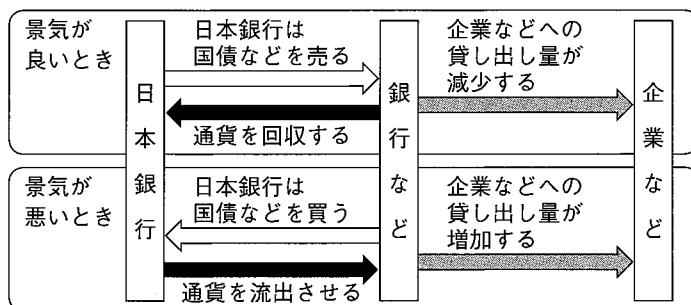
日本銀行には日本の中央銀行として主に「発券銀行」、「銀行の銀行」、「政府の銀行」と呼ばれる三つの役割があります。また、日本銀行は(a)金融政策をおこない、経済の安定化を図ります。

- ① 銀行が利益を得るしくみの一つについて、次の語句を使って説明しなさい。

[ 預金    利子    貸し出し ]

- ② 資料3は下線部(a)の1つを示したものである。資料3を説明した次の文中の  に入る適切な語句を書きなさい。

資料3



日本銀行は、景気の安定をはかるために、国債などの売買によって銀行などの資金量を増減させ、企業などへの貸し出し量を調整する  操作という方法を主にとっている。